



**LE RÉSEAU DE CRÉATION
ET D'ACCOMPAGNEMENT PÉDAGOGIQUES**

**Ce document a été mis en ligne par le Canopé de l'académie de Clermont- Ferrand
pour la Base Nationale des Sujets d'Examens de l'enseignement professionnel.**

Ce fichier numérique ne peut être reproduit, représenté, adapté ou traduit sans autorisation.

SESSION 2014

CERTIFICAT D'APTITUDE PROFESSIONNELLE
FLEURISTE

EP1
PRATIQUE PROFESSIONNELLE EN
ATELIER DE PRODUCTION

Sous-épreuve

Technologie professionnelle
(15 points)

Le dossier est à rendre

CERTIFICAT D'APTITUDE PROFESSIONNELLE FLEURISTE	Code examen : 14EP1
EP1 (U1) – Pratique professionnelle en Atelier de Production	Session 2014
Technologie Professionnelle (1h30 avec Botanique)	Coefficient : 11 Folio 1/4

SESSION 2014

ÉPREUVE DE TECHNOLOGIE PROFESSIONNELLE :

- 1 - Quelle précaution prenez-vous lorsque vous avez des fleurs de lys très ouvertes dans vos vases ?

.....

- 2 - Citer deux cas où vous ne stockez pas vos végétaux en chambre climatique réglée à 7 °C :

.....

.....

- 3 - Vous disposez de plusieurs sortes de fil :

Choisissez une utilisation judicieuse pour chacun de ces fils :

Fil de fer verni 3/40 :

Fil cheveu d'ange (ou fil camélia) :

Fil aluminium 2mm coloré :

- 4 - En art floral, qu'est ce que le point focal ?

.....

.....

- 5 - Expliquez ce que signifie une plante acidophile. Citez deux plantes acidophiles. Quel support de culture et quel pH conseillez-vous ?

.....

.....

.....

CERTIFICAT D'APTITUDE PROFESSIONNELLE FLEURISTE		Code examen : 14EP1	
EP1 (U1) – Pratique professionnelle en Atelier de Production		Session 2014	
Technologie Professionnelle (1h30 avec Botanique)		Coefficient : 11	Folio 2/4

6 - Reportez les numéros et les noms des matériaux suivants aux utilisations les plus appropriés :



-1-



-2-



-3-



-4-



-5-



-6-

- Grande composition triangulaire :
- Centre de table allongé :
- Décoration d'urne funéraire :
- Petit décor de table ronde :
- Gerbe piquée :

7 - a - Citez deux fleurs saisonnières.
(précisez les mois où la saison où on les trouve fréquemment) :

.....

.....

- b - Citez deux fleurs coupées disponibles toute l'année :

.....

.....

CERTIFICAT D'APTITUDE PROFESSIONNELLE FLEURISTE		Code examen : 14EP1	
EP1 (U1) – Pratique professionnelle en Atelier de Production		Session 2014	
Technologie Professionnelle (1h30 avec Botanique)		Coefficient : 11	Folio 3/4

8 - Vous préparez une commande pour un mariage.
Faites une proposition de fleurs et de feuillage en précisant les couleurs et les formes des végétaux que vous choisissez pour les réalisations suivantes :

Un bouquet de mariée

- de forme ronde, tiges naturelles
(Au moins trois fleurs et deux feuillages différents) :

.....
.....
.....

- Une boutonnière assortie:

.....
.....

-Un décor de buffet en hauteur
(Au moins trois fleurs de valeurs différentes et trois feuillages différents)
Précisez le contenant que vous choisissez :

.....
.....
.....

9 - Listez d'autres réalisations que vous pourriez proposer pour un mariage
(Au moins cinq) :

.....
.....
.....
.....
.....

CERTIFICAT D'APTITUDE PROFESSIONNELLE FLEURISTE		Code examen : 14EP1	
EP1 (U1) – Pratique professionnelle en Atelier de Production		Session 2014	
Technologie Professionnelle (1h30 avec Botanique)		Coefficient : 11	Folio 4/4

SESSION 2014

CERTIFICAT D'APTITUDE PROFESSIONNELLE
FLEURISTE













EP1
PRATIQUE PROFESSIONNELLE EN
ATELIER DE PRODUCTION

Sous-épreuve
Reconnaissance des Végétaux
(10 points)

Le dossier est à rendre

CERTIFICAT D'APTITUDE PROFESSIONNELLE FLEURISTE		Code examen : 14EP1	
EP1 (U1) – Pratique professionnelle en Atelier de Production – SUJET–		Session 2014	
Reconnaissance des végétaux (15 mn)	Coefficient : 11		Folio 1/3

SESSION 2014

			
N°1	N°2	N°3	N°4
			
N°5	N°6	N°7	N°8
			
N°9	N°10	N°11	N°12

CERTIFICAT D'APTITUDE PROFESSIONNELLE FLEURISTE

Code examen : 14EP1

EP1 (U1) – Pratique professionnelle en Atelier de Production – SUJET–

Session 2014

Reconnaissance des végétaux (15 mn)

Coefficient : 11

Folio 2/3

SESSION 2014

Observez la planche de végétaux et complétez le tableau suivant :

(Complétez uniquement les cases blanches du tableau)

N°	Nom usuel	Nom latin	FAMILLE
1			
2			
3			
4			
5			
6			
7			
8			
9			
10			
11			
12			

CERTIFICAT D'APTITUDE PROFESSIONNELLE FLEURISTE		Code examen : 14EP1	
EP1 (U1) – Pratique professionnelle en Atelier de Production – SUJET–		Session 2014	
Reconnaissance des végétaux (15 mn)	Coefficient : 11		Folio 3/3

SESSION 2014

CERTIFICAT D'APTITUDE PROFESSIONNELLE
FLEURISTE

EP1
PRATIQUE PROFESSIONNELLE EN
ATELIER DE PRODUCTION

Sous-épreuve

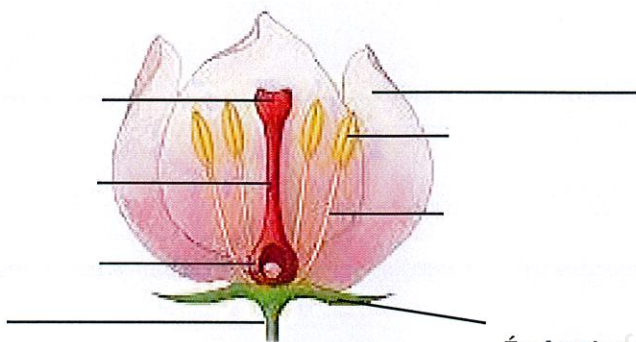
Botanique
(15 points)

CERTIFICAT D'APTITUDE PROFESSIONNELLE FLEURISTE		Code examen : 14EP1	
EP1 (U1) – Pratique professionnelle en Atelier de Production		Session 2014	
Botanique (0h45)	SUJET	Coefficient : 11	folio 1/4

Partie 1 La Fleur

1. Légender le schéma de la fleur ci-dessous :

Schéma
d'une fleur complète



Évaluation : 8 noms bien orthographiés et bien placés (8x 0.25 points)

2. Écrire le rôle de certaines pièces florales appartenant au schéma ci-dessus :



Rôle(s) des pièces florales **jaunes**:

.....



Rôle(s) de la pièce florale **rouge** :

.....

Évaluation : 2 rôles exacts (2x 0.75 points)

3. Compléter les phrases suivantes avec le mot qui convient :

♦ L'ensemble des forme le **calice**.

♦ L'ensemble des forme la **corolle**.

Évaluation : 2 mots exacts (2x 0.5 point)

4. Compléter le tableau avec les lettres correspondantes aux photos ci-dessous :



A



B



C



D



E

DÉFINITION	Fleur dialypétale	Fleur dialysépale gamopétale	calicule	Fleur gamopétale	Fleur dialypétale dialysépale
LETTRE					

Évaluation : 5 lettres bien placées (5x 0.25 points)

CERTIFICAT D'APTITUDE PROFESSIONNELLE FLEURISTE		Code examen : 14EP1	
EP1 (U1) – Pratique professionnelle en Atelier de Production		Session 2014	
Botanique (0h45)	SUJET	Coefficient : 11	folio 2/4

5. Pour un végétal, quel est le rôle de la fleur ?

.....
.....

Évaluation : réponse correcte (1 point)

6. Si la fleur est fécondée, quelles parties de cette fleur vont se transformer ?

Écrire ci -dessous les évolutions .

.....
.....
.....
.....


Évaluation : 2 réponses correctes
(2x 0.5 point)

Partie 2 La Feuille

7.

Légender la photo ci-dessous :

Photo de feuilles
de Frêne



Évaluation : 6 noms bien orthographiés
et bien placés (6x 0.25 points)

CERTIFICAT D'APTITUDE PROFESSIONNELLE FLEURISTE		Code examen : 14EP1	
EP1 (U1) – Pratique professionnelle en Atelier de Production		Session 2014	
Botanique (0h45)	SUJET	Coefficient : 11	folio 3/4

8. Écrire les rôles des éléments appartenant à la photo des feuilles de Frêne.

- Rôle(s) de A :
- Rôle(s) de B :
- Rôle(s) de C :

Évaluation : 3 rôles exacts (3x 0.5 points)

9. Décrire une feuille de Frêne avec le vocabulaire proposé ci-dessous :

simple – lobées - pari pennée – impari palmée – composée – dentées – pennées – impari pennée

- ☀ Feuille :
- ☀ Folioles :
- ☀ Nervures :

Évaluation : 4 bonnes réponses
(4x 0.25 point)

10. Pour un végétal, à quoi lui sert la feuille ?

.....
.....

Évaluation : réponse correcte (1 point)

Partie 3 La Photosynthèse


11. Pourquoi les végétaux chlorophylliens réalisent la photosynthèse ?

-
-
-

Évaluation : 3 réponses correctes
(3x 0.25 point)

12. Placer les légendes suivantes sur le schéma ci-dessous :

O₂ – Cellule chlorophyllienne – Lumière – Sève élaborée - CO₂ – Sève brute



Évaluation : 6 légendes bien placées
(6x 0.25 points)

CERTIFICAT D'APTITUDE PROFESSIONNELLE FLEURISTE		Code examen : 14EP1	
EP1 (U1) – Pratique professionnelle en Atelier de Production		Session 2014	
Botanique (0h45)	SUJET	Coefficient : 11	folio 4/4